












1.2 Правила плавания маломерных судов, включая правила плавания в портах



No	Вопрос	Иллюстрация	Варианты ответа (правильный выделен)
1.	Какой из изображенных на иллюстрации сигналов не является сигналом бедствия?	 <p>а б в г</p>	<ul style="list-style-type: none"> <li>• <b>в</b></li> </ul>
2.	Какое судно несет огни, изображенные на иллюстрации?		<ul style="list-style-type: none"> <li>• <b>Судно с механическим двигателем, длиной менее 12 м. Идет на нас</b></li> </ul>



3.	Какое судно несет огни, изображенные на иллюстрации?		<ul style="list-style-type: none"> <li>• Судно с механическим двигателем длиной менее 50 м на ходу. Виден правый борт</li> </ul>
4.	Какое судно несет огни, изображенные на иллюстрации?		<ul style="list-style-type: none"> <li>• Рыболовное судно длиной менее 50м, не имеющее хода относительно воды, занятое тралением</li> </ul>
5.	Какое судно несет огни, изображенные на иллюстрации?		<ul style="list-style-type: none"> <li>• Судно, занятое ловом рыбы, за исключением судов занятых тралением. Идет на нас</li> </ul>



6.	Какое судно несет огни, изображенные на иллюстрации?		<ul style="list-style-type: none"><li>• Судно, ограниченное в возможности маневрировать. Хо́да относительно воды не имеет</li></ul>
7.	Что обозначает изображенный на иллюстрации плавучий навигационный знак?		<ul style="list-style-type: none"><li>• Ограждающий отдельную опасность малых размеров</li></ul>

8.	Что обозначает изображенный на иллюстрации плавучий навигационный знак?		<ul style="list-style-type: none"><li>• Правую сторону фарватера</li></ul>
9.	Что обозначает изображенный на иллюстрации плавучий навигационный знак?		<ul style="list-style-type: none"><li>• Специального назначения</li></ul>



10.	Что обозначает изображенный на иллюстрации плавучий навигационный знак?		<ul style="list-style-type: none"><li>• <b>Основной фарватер справа</b></li></ul>
11.	Что обозначает изображенный на иллюстрации плавучий навигационный знак?		<ul style="list-style-type: none"><li>• <b>Осевой</b></li></ul>



12.	Что обозначает изображенный на иллюстрации плавучий навигационный знак?		<ul style="list-style-type: none"><li>• <b>Левой стороны</b></li></ul>
13.	Что обозначает изображенный на иллюстрации плавучий навигационный знак?		<ul style="list-style-type: none"><li>• <b>Основной фарватер слева</b></li></ul>



14.	Какое судно несет огни, изображенные на иллюстрации?		<ul style="list-style-type: none"> <li>• Парусное</li> </ul>
15.	Какими работами занято изображенное на иллюстрации судно?		<ul style="list-style-type: none"> <li>• Дноуглубительными</li> </ul>



<p>16.</p>	<p>Какое из изображенных на иллюстрации судов следует от нас?</p>		<ul style="list-style-type: none"> <li>• а) и б)</li> </ul>
<p>17.</p>	<p>Какое судно несет изображенные на иллюстрации знаки?</p>		<ul style="list-style-type: none"> <li>• Судно, занятое работой по устранению минной опасности</li> </ul>

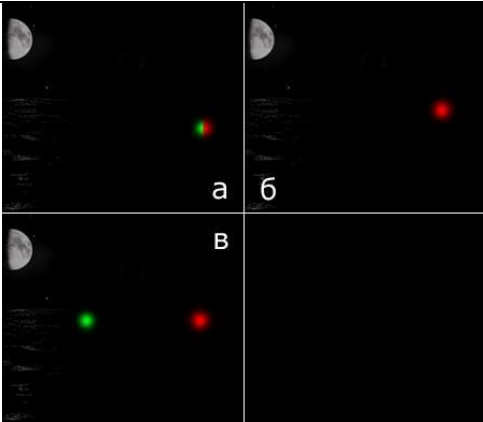





18.	Какое судно несет изображенные на иллюстрации знаки?		<ul style="list-style-type: none"><li>• <b>Лишенное возможности управляться</b></li></ul>
19.	Какое судно несет изображенные на иллюстрации знаки?		<ul style="list-style-type: none"><li>• <b>Судно на мели</b></li></ul>



20.	Какое судно несет изображенный на иллюстрации знак?		<ul style="list-style-type: none"><li>• Рыболовное, занятое ловом рыбы</li></ul>
21.	Какое судно несет изображенный на иллюстрации знак?		<ul style="list-style-type: none"><li>• Рыболовное судно длиной более 50 м, занятое тралением; Рыболовное судно длиной менее 50 м, занятое тралением; Рыболовное судно, занятое ловом рыбы кошельковыми неводами</li></ul>



22.	Какое судно несет изображенный на иллюстрации знак?	 The illustration shows the upper part of a ship's mast against a sunset sky. A black ball is suspended from the mast by a rope. The sea is visible in the background.	<ul style="list-style-type: none"><li>• Судно на якорю</li></ul>
23.	Какое судно несет изображенный на иллюстрации знак?	 The illustration shows a black arrow pointing to the right, suspended from a thin line against a sunset sky. The sea is visible in the background.	<ul style="list-style-type: none"><li>• Судно, идущее под парусом и одновременно приводимое в движение механической установкой</li></ul>

24.	Какое судно несет огни, изображенные на иллюстрации?		 The illustration shows a dark sea at night with a moon in the upper left. A ship is visible with a white light on the bow and a red light on the starboard. A green light is also visible on the starboard side.	<ul style="list-style-type: none"><li>• Занятое ловом рыбы с использованием трала. Виден правый борт</li></ul>
25.	Какое судно несет огни, изображенные на иллюстрации?		 The illustration shows a dark sea at night with a moon in the upper left. A ship is visible with a white light on the bow and a red light on the starboard. A green light is also visible on the starboard side.	<ul style="list-style-type: none"><li>• Занятое работами по устранению минной опасности. Идет от нас</li></ul>



<p>26.</p>	<p>Какое из судов, изображенных на иллюстрации, идет на веслах?</p>		<ul style="list-style-type: none"> <li>• <b>Такого судна на иллюстрации нет</b></li> </ul>
<p>27.</p>	<p>В какой стороне необходимо оставить изображенный на иллюстрации плавучий навигационный знак?</p>		<ul style="list-style-type: none"> <li>• <b>к Е</b></li> </ul>



28.	В какой стороне необходимо оставить изображенный на иллюстрации плавучий навигационный знак?		<ul style="list-style-type: none"><li>• к S</li></ul>
29.	В какой стороне необходимо оставить изображенный на иллюстрации плавучий навигационный знак?		<ul style="list-style-type: none"><li>• к W</li></ul>



30.	С какой стороны необходимо оставить изображенный на иллюстрации плавучий навигационный знак?		<ul style="list-style-type: none"><li>• С любой</li></ul>
31.	На каком судне выставляется изображенный на иллюстрации сигнал?		<ul style="list-style-type: none"><li>• На терпящем бедствие</li></ul>



32.	На каком судне выставляются изображенные на иллюстрации знаки?		<ul style="list-style-type: none"><li>• На судне, ограниченном в возможности маневрировать</li></ul>
33.	В какой стороне необходимо оставить изображенный на иллюстрации плавучий навигационный знак?		<ul style="list-style-type: none"><li>• к Е</li></ul>



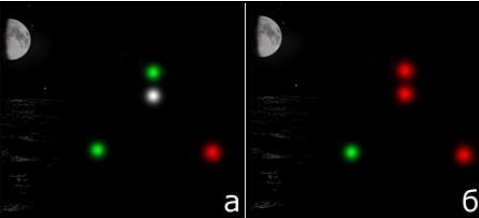

34.	В какой стороне необходимо оставить изображенный на иллюстрации плавучий навигационный знак?		<ul style="list-style-type: none"><li>• к N</li></ul>
35.	В каком генеральном направлении следует указанное маломерное судно?		<ul style="list-style-type: none"><li>• В море</li></ul>


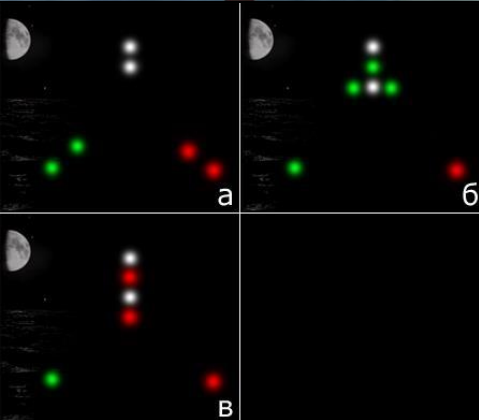
36.	С какой стороны необходимо пройти мимо изображенного на иллюстрации плавучего навигационного знака?		<ul style="list-style-type: none"><li>• <b>c S</b></li></ul>
37.	С какой стороны необходимо пройти мимо изображенного на иллюстрации плавучего навигационного знака?		<ul style="list-style-type: none"><li>• <b>c E</b></li></ul>

<p>38.</p>	<p>С какой стороны необходимо пройти мимо изображенного на иллюстрации плавучего навигационного знака?</p>		<ul style="list-style-type: none"> <li>• с N</li> </ul>
<p>39.</p>	<p>В каком генеральном направлении следует изображенное на иллюстрации маломерное судно?</p>		<ul style="list-style-type: none"> <li>• В порт</li> </ul>

40.	Что обозначает изображенный на иллюстрации сигнал?		<ul style="list-style-type: none"><li>• <b>Сигнал бедствия</b></li></ul>
41.	Что означает изображенный на иллюстрации сигнал, поднимаемый на судне днем?		<ul style="list-style-type: none"><li>• <b>Сигнал бедствия</b></li></ul>



42.	Какое из судов, изображенных на иллюстрации, является парусным?		<ul style="list-style-type: none"> <li>• г</li> </ul>
43.	Какое судно несет огни, изображенные на иллюстрации?		<ul style="list-style-type: none"> <li>• Судно, лишенное возможности управляться и не имеющее хода относительно воды</li> </ul>



44.	Какое из судов, изображенных на иллюстрации, является лоцманским?	 <p>а б</p>	<ul style="list-style-type: none"> <li>• <b>в</b></li> </ul>
45.	Какое судно несет огни, изображенные на иллюстрации?		<ul style="list-style-type: none"> <li>• <b>Парусное судно, идущее под мотором, длиной менее 12 м</b></li> </ul>




<p>46.</p>	<p>В какой стороне относительно изображенного на иллюстрации плавучего навигационного знака находится основной фарватер?</p>		<ul style="list-style-type: none"> <li>• Слева</li> </ul>
<p>47.</p>	<p>Какое из судов, изображенных на иллюстрации, занято дноуглубительными работами?</p>		<ul style="list-style-type: none"> <li>• Ни одно из изображенных</li> </ul>

48.	На какой иллюстрации изображено судно на воздушной подушке, длиной менее 50 м, которое идет на нас?			• б
49.	На какой иллюстрации изображен левый борт судна с механическим двигателем, длиной менее 50 м, на ходу?			• а


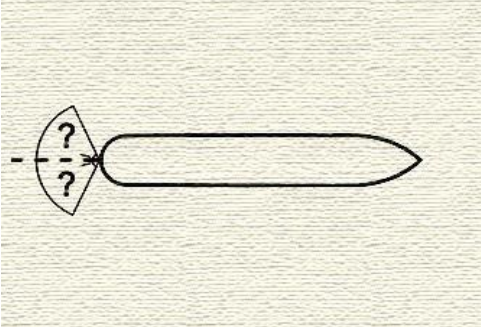



50.	При какой длине буксира выставляется изображенное на иллюстрации знак на судне с механическим двигателем, занятом буксировкой?		<ul style="list-style-type: none"><li>• <b>Более 200 м</b></li></ul>
51.	Что означает флаг, изображенный на иллюстрации?		<ul style="list-style-type: none"><li>• <b>«Остановите немедленно свое судно»</b></li></ul>


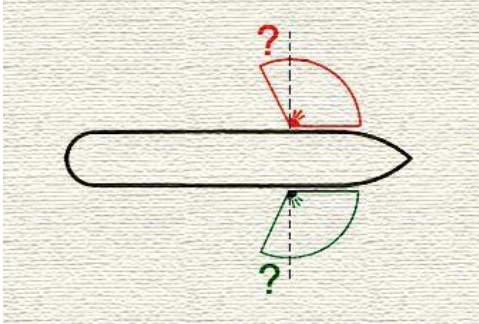

52.	Что означает флаг, изображенный на иллюстрации?		<ul style="list-style-type: none"><li>• <b>«Я хочу установить с Вами связь»</b></li></ul>
53.	Что означает флаг, изображенный на иллюстрации?		<ul style="list-style-type: none"><li>• <b>«Человек за бортом»</b></li></ul>

54.	Что означает флаг, изображенный на иллюстрации?		<ul style="list-style-type: none"> <li>• <b>«Вы идете к опасности»</b></li> </ul>
55.	Какое должностное лицо в морском порту отвечает за безопасность мореплавания в порту и на подходах к нему?		<ul style="list-style-type: none"> <li>• <b>Капитан порта</b></li> </ul>
56.	Огни какого судна наблюдаются на иллюстрации?		<ul style="list-style-type: none"> <li>• <b>Буксировка в кильватер, длина буксирующего судна более 50м, длина буксира более 200м</b></li> </ul>

57.	Какое судно считается, согласно МППСС-72, обгоняющим?		<ul style="list-style-type: none"> <li>• Которое подходит с курсового угла более 112,5°</li> </ul>
58.	Огни какого судна показаны на иллюстрации		<ul style="list-style-type: none"> <li>• Судно, занятое ловом рыбы, за исключением судов, занятых тралением, у которого снасти простираются в море по горизонтали более чем на 150 м от судна, идет влево</li> </ul>
59.	Каковы действия судна, когда, находясь в районе ограниченной видимости, оно не может предотвратить чрезмерного сближения с другим судном, находящимся впереди траверза?		<ul style="list-style-type: none"> <li>• Уменьшить ход до минимального, достаточного для удержания судна на курсе</li> </ul>




60.	В ночное время Вы наблюдаете огни судна с механическим двигателем на ходу, у которого виден также круговой проблесковый желтый огонь. Что это за судно?		<ul style="list-style-type: none"> <li>• Судно на воздушной подушке, находящееся в неводоизмещающем состоянии</li> </ul>
61.	Кормовой огонь судна установлен таким образом, чтобы светить от направления прямо по корме до (?) в сторону каждого борта		<ul style="list-style-type: none"> <li>• 67,5°</li> </ul>
62.	Два парусных судна идут разными галсами, опасно сближаясь друг с другом. Какие взаимные обязанности установлены между ними согласно Правил?		<ul style="list-style-type: none"> <li>• Судно, идущее левым галсом, должно уступить дорогу другому судну</li> </ul>

63.	Где должно находиться судно во время следования узким проходом или фарватером		<ul style="list-style-type: none"> <li>• Оно должно держаться внешней границы фарватера, которая находится с его правого борта</li> </ul>
64.	Какое утверждение является правильным в отношении подачи звуковых сигналов при нахождении вашего судна вблизи района с ограниченной видимостью		<ul style="list-style-type: none"> <li>• Обязаны подавать звуковые сигналы</li> </ul>
65.	Какое значение имеют три шара, расположенные по вертикальной линии?		<ul style="list-style-type: none"> <li>• Судно, стоящее на мели</li> </ul>

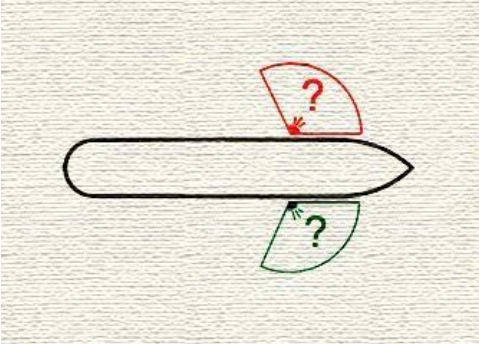


66.	Какие из перечисленных состояний судна подпадают под термин «НА ХОДУ»?		<ul style="list-style-type: none"> <li>• Судно под парусами лежит в дрейфе</li> </ul>
67.	Бортовой огонь светит от направления прямо по носу и до (?) позади траверза		<ul style="list-style-type: none"> <li>• 22,5°</li> </ul>
68.	У обгоняемого судна ночью с обгоняющего могут наблюдаться только ...		<ul style="list-style-type: none"> <li>• Только кормовой огонь</li> </ul>

69.	Каковы ваши действия в ответ на один продолжительный звуковой сигнал, который слышен из-за крутого изгиба фарватера?		<ul style="list-style-type: none"> <li>• Ответить одним продолжительным звуком</li> </ul>
70.	Огни какого судна показаны на иллюстрации?		<ul style="list-style-type: none"> <li>• Судно с механическим двигателем длиной менее 50 м толкает впереди другое судно, идет вправо</li> </ul>
71.	Каковы обязанности судна, которое, согласно МППСС, не должно затруднять движение или безопасный проход другого судна		<ul style="list-style-type: none"> <li>• Должно, когда этого требуют обстоятельства, предпринимать заблаговременные действия с тем, чтобы оставить достаточное водное пространство для прохода другого судна</li> </ul>









72.	<p>Два парусных судна идут одним и тем же галсом, опасно сближаясь друг с другом. Какие взаимные обязанности установлены между ними согласно Правил?</p>		<ul style="list-style-type: none"> <li>• Судно, находящееся на ветре, уступает дорогу судну, находящемуся под ветром</li> </ul>
73.	<p>Судно с механическим двигателем длиной менее 7 м, имеющее максимальную скорость не более 7 узлов</p>		<ul style="list-style-type: none"> <li>• Может выставлять белый круговой огонь вместо огней топового и кормового, и должно, если это практически возможно, выставлять также бортовые огни</li> </ul>
74.	<p>Огонь какого судна наблюдаются на иллюстрации</p>		<ul style="list-style-type: none"> <li>• Парусное судно длиной менее 7 м</li> </ul>

75.	Какой из указанных знаков поднимается, когда судно становится на якорь		<ul style="list-style-type: none"> <li>• Г</li> </ul>
76.	Когда заканчивается обязанность обгоняющего судна по отношению к обгоняемому держаться от него в стороне?		<ul style="list-style-type: none"> <li>• Когда оно окончательно прошло обгоняемое судно и оставило его позади</li> </ul>
77.	Какое из указанных судов должно подавать звуковые сигналы при ограниченной видимости через промежуток времени не более 2 минут три последовательных звука, а именно - один продолжительный и в след за ним два коротких?		<ul style="list-style-type: none"> <li>• Судно, занятое ловом рыбы на якоре</li> <li>• Судно, ограниченное в возможности маневрировать, стесненное своей осадкой</li> <li>• Парусное судно</li> <li>• <b>Все, указанные в ответах суда</b></li> </ul>

78.	Бортовой огонь освещает дугу горизонта		<ul style="list-style-type: none"> <li>• 112,5°</li> </ul>
79.	Опасность столкновения считается существующей, если		<ul style="list-style-type: none"> <li>• Пеленг приближающегося судна заметно не меняется</li> </ul>
80.	Какое из приведенных ниже утверждений в отношении термина "НА ВИДУ ДРУГ У ДРУГА" соответствует Правилам?		<ul style="list-style-type: none"> <li>• Все, приведенные утверждения, являются правильными</li> </ul>

81.	Огни какого судна показаны на иллюстрации?		<ul style="list-style-type: none"> <li>• Буксировка в кильватер, длина буксирующего судна менее 20м, длина буксира менее 200м, идет влево</li> </ul>
82.	Кому НЕ уступает дорогу парусное судно?		<ul style="list-style-type: none"> <li>• Судну с механическим двигателем</li> </ul>
83.	Следуя в районе ограниченной видимости или вблизи такого района, парусное судно должно подавать		<ul style="list-style-type: none"> <li>• Один продолжительный и вслед за ним два коротких звуковых сигнала</li> </ul>


84.	В темное время суток Вы обнаружили огни судна, указанные на иллюстрации. Какие ограничения в отношении минимального расстояния расхождения с таким судном существуют в МППСС-72		<ul style="list-style-type: none"> <li>• 1000 м</li> </ul>
85.	Знаки какого судна указаны на иллюстрации?		<ul style="list-style-type: none"> <li>• Судно, занятое подводными операциями и ограниченное в возможности маневрировать</li> </ul>
86.	При следовании в системе разделения движения (или при ее пересечении) парусное судно		<ul style="list-style-type: none"> <li>• Не должно затруднять проход судна с механическим двигателем, следующего в полосе движения</li> </ul>




87.	Пересекая курс по носу грузового судна так, как показано на фотографии, маломерное судно		<ul style="list-style-type: none"> <li>• Нарушает правила МППСС</li> </ul>
88.	Комбинированный фонарь, в котором выставляются бортовые огни, используют		<ul style="list-style-type: none"> <li>• Судно длиной менее 20 м; Судно с механическим двигателем длиной менее 12 м; Парусное судно длиной менее 20 м</li> </ul>
89.	Правило, относящееся к обгону, применяется, когда суда находятся		<ul style="list-style-type: none"> <li>• На виду друг у друга</li> </ul>


90.	В открытом море опасно сближаются на пересекающихся курсах парусное судно и судно, занятое ловом рыбы, которое наблюдает парусник со своего правого борта. Каковы взаимные обязанности судов?		<ul style="list-style-type: none"> <li>• Парусное судно должно уступить дорогу судну, занятому ловом рыбы</li> </ul>
91.	В каких районах применяются МППСС-72		<ul style="list-style-type: none"> <li>• В открытых морях и соединенных с ними водах, по которым могут плавать морские суда</li> </ul>
92.	Следуя в тумане Вы обнаружили на экране РЛС, слева впереди траверза эхо-сигнал судна и установили, что развивается ситуация опасного сближения с ним. Какое утверждение является правильным?		<ul style="list-style-type: none"> <li>• Мы должны своевременно предпринять действие для расхождения</li> </ul>



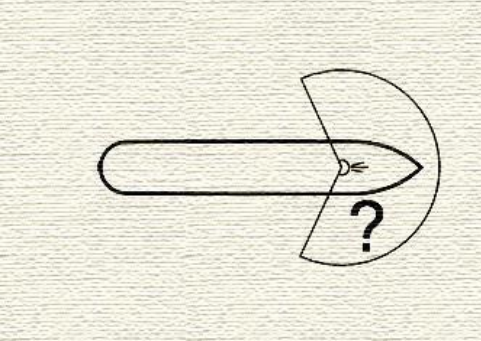
93.	Следуя в плохую видимость, вы неожиданно услышали туманный сигнал другого судна по-видимому впереди своего траверза. Вы должны		<ul style="list-style-type: none"> <li>• Уменьшить ход до минимального, достаточного для удержания судна на курсе</li> </ul>
94.	При каком численном значении видимость считается ограниченной		<ul style="list-style-type: none"> <li>• Ни одно из указанных утверждений не присутствует в Правилах</li> </ul>
95.	Какое значение имеют огни, указанные на рисунке		<ul style="list-style-type: none"> <li>• Судно, стоящее на мели</li> </ul>









96.	Судно с механическим двигателем длиной менее 12 м		<ul style="list-style-type: none"> <li>• <b>Может вместо огней топового, бортовых и кормового выставлять белый круговой огонь и бортовые огни</b></li> </ul>
97.	Огни какого судна наблюдаются на иллюстрации?		<ul style="list-style-type: none"> <li>• <b>Парусное судно, идет влево</b></li> </ul>
98.	Какое из приведенных ниже судов подпадает под термин «СУДНО, ОГРАНИЧЕННОЕ В ВОЗМОЖНОСТИ МАНЕВРИРОВАТЬ»		<ul style="list-style-type: none"> <li>• <b>Маневрирует при сдаче лоцмана на лоцманский катер</b></li> </ul>

99.	Огни какого судна показаны на иллюстрации?		<ul style="list-style-type: none"> <li>• Судно, занятое буксировкой, идет от нас</li> </ul>
100.	Какой знак выставляет в дневное время судно с механическим двигателем, занятое буксировкой с кормы, если длина буксира, измеренная от кормы буксирующего судна до кормы буксируемого, превышает 200м		<ul style="list-style-type: none"> <li>• В</li> </ul>
101.	Огни какого судна наблюдаются на иллюстрации?		<ul style="list-style-type: none"> <li>• Судно, занятое ловом рыбы тралом длиной более 50 м на ходу, идет влево</li> </ul>

<p>102.</p>	<p>Судно, которому уступают дорогу в условиях на виду друг у друга ...</p>		<ul style="list-style-type: none"> <li>• Должно сохранять свой курс и скорость; Может предпринять действие для избежания столкновения, когда ему становится очевидно, что другое судно, обязанное уступить дорогу, не предпринимает соответствующего действия; Должно предпринять действия для предотвращения столкновения, если обнаружило, что столкновения нельзя избежать только действиями судна, уступающего дорогу</li> </ul>
<p>103.</p>	<p>Какой знак в дневное время выставляет судно, идущее под парусом, и, в то же время, приводимое в движение механической установкой</p>		<ul style="list-style-type: none"> <li>• Б</li> </ul>
<p>104.</p>	<p>При плавании в районе системы разделения движения парусное судно</p>		<ul style="list-style-type: none"> <li>• Может использовать зону прибрежного плавания</li> </ul>

105.	Какой из приведенных знаков несет судно, занятое тралением		<ul style="list-style-type: none"> <li>• Б</li> </ul>
106.	Огни какого судна показаны на иллюстрации?		<ul style="list-style-type: none"> <li>• Судно, занятое ловом рыбы нетраловыми снастями не более 150 м на ходу, но не имеющее ход относительно воды</li> </ul>
107.	Какова дуга горизонта, которую освещает топовый огонь судна		<ul style="list-style-type: none"> <li>• Дуга горизонта в <math>112,5^\circ</math> по каждому борту, берущая начало от диаметральной плоскости судна и в направлении в корму</li> </ul>

<p>108.</p>	<p>В открытом море, ночью, Вы приближаетесь к судну, у которого виден кормовой огонь. Временами открывается его бортовой огонь, при этом кормовой огонь перестает быть виден. Вы должны</p>		<ul style="list-style-type: none"> <li>• <b>Считать, что это обгон</b></li> </ul>
<p>109.</p>	<p>Какое судно не должно выставлять топовые огни, когда оно на ходу и имеет ход относительно воды</p>		<ul style="list-style-type: none"> <li>• <b>Судно, лишенное возможности управляться; Буксируемое судно; Судно, занятое ловом рыбы нетраловыми снастями</b></li> </ul>
<p>110.</p>	<p>Кому уступает дорогу судно с механическим двигателем на ходу?</p>		<ul style="list-style-type: none"> <li>• Парусному судну</li> <li>• Судну, лишенному возможности управляться</li> <li>• Судну, ограниченному в возможности маневрировать</li> <li>• <b>Всем судам, указанным в ответах</b></li> </ul>

111.	Огни какого судна наблюдаются на иллюстрации?			<ul style="list-style-type: none"> <li>• Парусное судно длиной менее 20 м, идет на нас</li> </ul>
112.	Огни какого судна показаны на иллюстрации?			<ul style="list-style-type: none"> <li>• Судно, занятое ловом рыбы тралением на ходу, но остановившееся и не имеющее ход относительно воды, вид с носа</li> </ul>
113.	Какие огни должно выставить маломерное судно длиной более 12 м при посадке на мель?			<ul style="list-style-type: none"> <li>• Белый круговой и два красных круговых</li> </ul>