





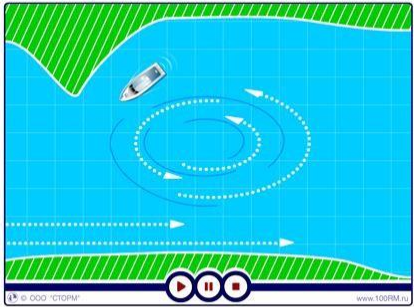

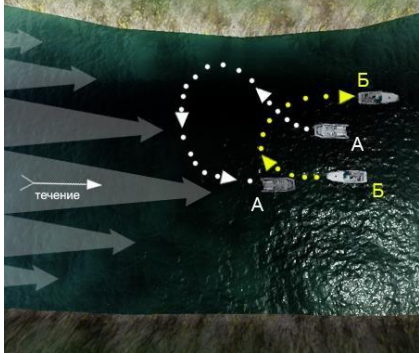
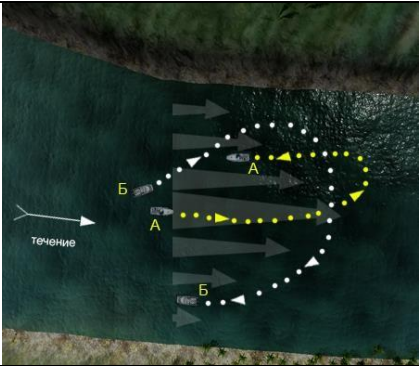







2.1 Учет воздействия ветра и течения




No	Вопрос	Иллюстрация	Варианты ответа (правильный выделен)
1.	Как называется борт судна, обращенный к ветру?		<ul style="list-style-type: none"> • Наветренный
2.	Как называется волнение, распространяющееся в виде свободных волн по инерции, после прекращения воздействия ветра?		<ul style="list-style-type: none"> • Зыбь
3.	При каком условии во время движения по течению судно "слушается руля"?		<ul style="list-style-type: none"> • Если скорость судна больше скорости течения




4.	Как правильно сделать поворот на обратный курс в узкости при боковом ветре?		<ul style="list-style-type: none"> • «На ветер»
5.	Как следует проходить на маломерном судне небольшие суводи?		<ul style="list-style-type: none"> • На полном ходу
6.	В каком из перечисленных случаев маломерным судном управлять значительно легче?		<ul style="list-style-type: none"> • При движении против течения




<p>7.</p>	<p>Какие действия должен предпринять судоводитель при выводе маломерного судна из большой суводи?</p>		<ul style="list-style-type: none"> • Вести судно по внешнему краю суводи и, увеличивая ход, выходить к стрелню
<p>8.</p>	<p>Какое из перечисленных действий необходимо принимать при проходе под мостами с сильным течением?</p>		<ul style="list-style-type: none"> • Вести судно параллельно (вдоль) направления струй течения с учетом ветра
<p>9.</p>	<p>На каком из этих судов (А или Б) при движении против течения правильно производится поворот на обратный курс?</p>		<ul style="list-style-type: none"> • На «А»





<p>10.</p>	<p>На каком из этих судов (А или Б) при движении по течению правильно производится поворот на обратный курс?</p>	 <p>The diagram shows a river bend with a current flowing from left to right, indicated by a white arrow labeled 'течение'. Two boats, A and B, are positioned at the start of the bend. Boat A is shown with a yellow arrow pointing towards the outer bank of the bend. Boat B is shown with a white arrow pointing towards the inner bank of the bend. A dashed line indicates the path of the current around the bend.</p>	<ul style="list-style-type: none"> • На «А»
<p>11.</p>	<p>Какой угол перекладки руля требуется при выполнении поворота при движении по течению на повороте реки?</p>	 <p>A photograph showing a person on a blue inflatable boat navigating a sharp right-hand bend in a river. The boat is moving with the current, and the water is turbulent around the bend.</p>	<ul style="list-style-type: none"> • Меньший
<p>12.</p>	<p>Какой угол перекладки руля требуется при выполнении поворота при движении против течения на повороте реки?</p>	 <p>A photograph showing a person on a blue inflatable boat navigating a sharp right-hand bend in a river. The boat is moving against the current, and the water is turbulent around the bend.</p>	<ul style="list-style-type: none"> • Большой


13.	В какое направление стремится выйти судно под влиянием сильного волнения?		<ul style="list-style-type: none"> • Бортом к волне
14.	В каком из приведенных случаев судно лучше управляется?		<ul style="list-style-type: none"> • При движении против течения
15.	При какой скорости судно, движущееся по течению, лучше управляется?		<ul style="list-style-type: none"> • Если скорость судна больше скорости течения

16.	Как называется борт судна, обращенный к ветру?		<ul style="list-style-type: none">• Наветренный
17.	Как называется левый борт судна, правый борт которого обращен к ветру?		<ul style="list-style-type: none">• Подветренный
18.	Как называется ветер, дующий в сторону от причала?		<ul style="list-style-type: none">• Отжимной

19.	Как называется ветер, дующий в сторону причала?		<ul style="list-style-type: none">• Прижимной
20.	В каком направлении рекомендуется производить поворот на обратный курс при сильном боковом ветре?		<ul style="list-style-type: none">• На ветер
21.	Как называется ветер, который воздействует на неподвижно стоящее судно?		<ul style="list-style-type: none">• Истинный

<p>22.</p>	<p>Как называется ветер, который образовывается в результате движения судна?</p>		<ul style="list-style-type: none"> • Курсовой
<p>23.</p>	<p>С какой стороны движущегося вперед судна всегда направлен курсовой ветер?</p>		<ul style="list-style-type: none"> • Сноса
<p>24.</p>	<p>Направление какого ветра показывает установленный на мачте ветроуказатель?</p>		<ul style="list-style-type: none"> • Кажущегося (вымпельного)

25.	Как называется ветер, дующий против течения реки?			<ul style="list-style-type: none"> • Низовой
26.	Как называется неправильное (беспорядочное) вращательное течение в реке, вызываемое либо столкновением струй двух водных потоков (спорными водами), либо наличием на дне реки крупных предметов?			<ul style="list-style-type: none"> • Майдан
27.	Как называется неправильное течение, которое представляет собой слив воды, направленный под углом к судовому ходу, и возникающее из-за разности в уровнях воды по ширине реки?			<ul style="list-style-type: none"> • Свальное
28.	Как называется клиновидное отложение наносов, образованное у выпуклого берега и расположенное под углом к нему вниз по течению?			<ul style="list-style-type: none"> • Коса

29.	Как называется течение, которое создается у берега на участках, где слив воды направлен к берегу, и вызывает раскат судов в сторону берега?		<ul style="list-style-type: none">• Прижимное
-----	---	--	---